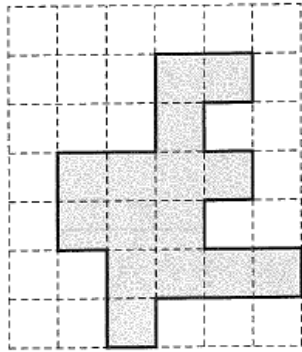


次の授業までにやってきてください。よろしくお願いします。

1 下の図で、方眼の1目盛りを1cmとします。かげをつけた部分の面積は何 cm^2 ですか。

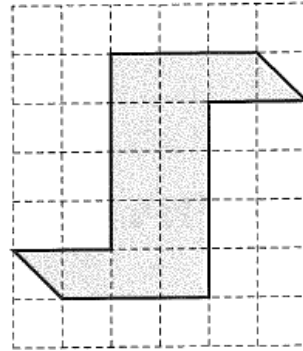
■(1)



{

}

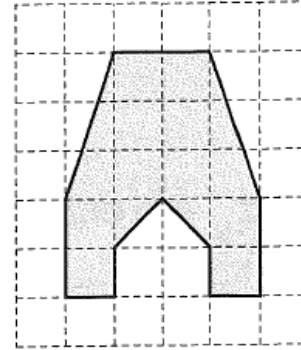
□(2)



{

}

□(3)



{

}