

新小学4年生受検クラスの入塾テストについて

出題は、すべて一般の公立小学 3 年生までの教科書を参考にさせていただきます。

以下、入塾テストの出題例を掲載いたします。

出題例

1 次の計算をなさい。

(1) $100 \div 5$

(2) $524 - 135$

(3) 670×58

(4) $32 - 2.8$

2 次の□にあてはまる数を答えなさい。

(1) $\square - 18 = 5$

(2) $34 - \square = 16$

(3) $\square \div 4 = 24$

(4) $80 \div \square = 20$

3 かずや君はきのうの午後 9 時 40 分に寝^ねて、今日の午前 6 時 35 分におきました。
かずや君が寝ていた時間は何時間何分ですか。

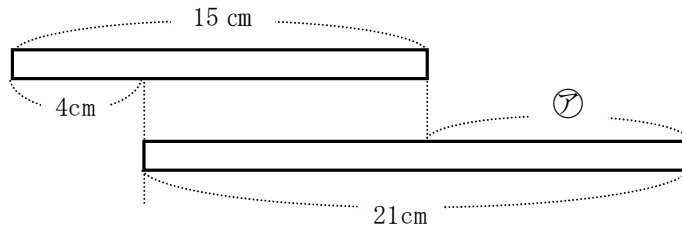
4 次の間に答えなさい。

(1) 21Lは何 dL ですか。

(2) 1m26cmは何 cm ですか。

5 えんぴつを 12 人の子どもにわけたところ、1 人に 6 本ずつ配^{くば}れて 3 本あまりま
した。えんぴつは全部で何本ありましたか。

6 下図のような2本のテープがあります。図の⑦は何cmですか。



7 右の図1のような積み木を、部屋のすみ（隅）にいくつか積みかさねます。たとえば下の図2のとき、見えている積み木は3個ですが、かくれている積み木もあるので、ぜんぶで4個の積み木があることとなります。次の問に答えなさい。

図1

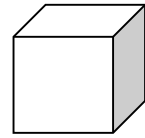
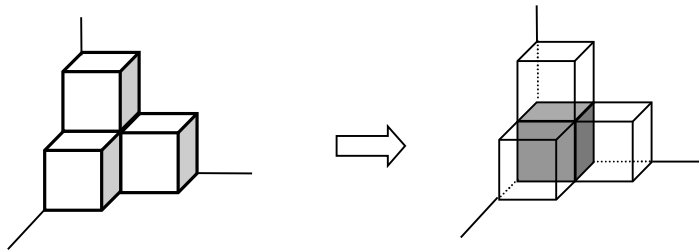
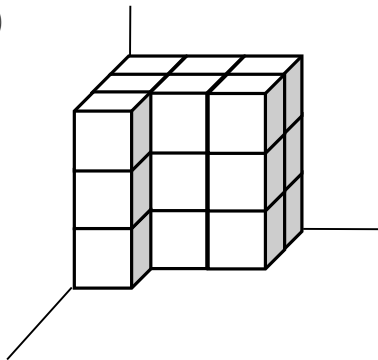


図2



問 下の(1)、(2)の図には、それぞれ積み木が何個つまれていますか。

(1)



(2)

